

# CHESTIONARUL NR. 1

## CATEGORIA B

Minimum 22 puncte = admis

Bifați

<p><b>1</b> În care dintre situațiile de mai jos poți folosi banda de lângă axul drumului pe o autostradă ?</p> <p><input type="checkbox"/> A când conduci autoturismul cu viteza maximă admisă;</p> <p><input type="checkbox"/> B când efectuezi depășirea altor autovehicule, dacă celelalte benzi în direcția de mers sunt ocupate;</p> <p><input type="checkbox"/> C când nu ești precedat de alte autovehicule.</p>	<input type="checkbox"/> A	<input type="checkbox"/> B	<input type="checkbox"/> C
<p><b>2</b> Ce obligații îți revin atunci când constați, noaptea, că lumina farurilor nu se mai aprinde ?</p> <p><input type="checkbox"/> A să asiguri funcționarea cel puțin a luminii de întâlnire din stânga a autovehiculului și a unei lumini de poziție din spate;</p> <p><input type="checkbox"/> B să folosești luminile de poziție până ajungi într-un loc de parcare în care poți remedia defecțiunea;</p> <p><input type="checkbox"/> C să circuli cu atenție până la primul service auto.</p>	<input type="checkbox"/> A	<input type="checkbox"/> B	<input type="checkbox"/> C
<p><b>3</b> Circuli într-o coloană și respecți distanța față de vehiculul din față. Ce trebuie să faci în plus ?</p> <p><input type="checkbox"/> A să observi prin geamul lateral al vehiculului marginea din dreapta a părții carosabile;</p> <p><input type="checkbox"/> B să aprinzi lanterna de ceață din spate;</p> <p><input type="checkbox"/> C să rămâi în limita propriei benzi și să îți asiguri câmpul de vizibilitate.</p>	<input type="checkbox"/> A	<input type="checkbox"/> B	<input type="checkbox"/> C
<p><b>4</b> Întoarcerea autovehiculului este interzisă:</p> <p><input type="checkbox"/> A pe marcajul pietonal;</p> <p><input type="checkbox"/> B în locurile în care soliditatea drumului nu permite;</p> <p><input type="checkbox"/> C pe drumurile cu sens unic.</p>	<input type="checkbox"/> A	<input type="checkbox"/> B	<input type="checkbox"/> C
<p><b>5</b> În cazul în care, într-o intersecție, lângă semaforul în stare de funcționare este instalat indicatorul „Oprire“, ești obligat să respecți:</p> <p><input type="checkbox"/> A regula priorității de dreapta;</p> <p><input type="checkbox"/> B semnificația indicatorului;</p> <p><input type="checkbox"/> C semnificația luminii semaforului.</p>	<input type="checkbox"/> A	<input type="checkbox"/> B	<input type="checkbox"/> C
<p><b>6</b> Cum procedezi atunci când circuli în afara localităților, pe un drum cu o singură bandă pe sens, și întâlnești un vehicul lent, lung sau greu, pe care nu îl poți depăși ?</p> <p><input type="checkbox"/> A te deplasezi în urma acestuia, până când manevra de depășire se poate efectua;</p> <p><input type="checkbox"/> B îl semnalizezi pe cel de la volan prin mijloacele de avertizare sonoră și luminoasă;</p> <p><input type="checkbox"/> C oprești și lași vehiculul respectiv să se îndepărteze.</p>	<input type="checkbox"/> A	<input type="checkbox"/> B	<input type="checkbox"/> C
<p><b>7</b> Cum vei proceda corect dacă intri pe autostradă folosind banda de intrare (de accelerare) ?</p> <p><input type="checkbox"/> A vei mări viteza, întrucât banda pe care circuli este special creată în acest scop;</p> <p><input type="checkbox"/> B nu ai nicio obligație, deoarece autostrada are suficiente benzi pentru a permite circulația tuturor vehiculelor;</p> <p><input type="checkbox"/> C cedezi trecerea autovehiculelor care circulă pe prima bandă a autostrăzii și nu stânjenești în niciun fel circulația acestora.</p>	<input type="checkbox"/> A	<input type="checkbox"/> B	<input type="checkbox"/> C

**8** Cum vei proceda la întâlnirea indicatorului „Opre”?

- A** reduci viteza până la limita evitării oricărui pericol, după care traversezi intersecția;
- B** oprești în locul în care ai vizibilitatea cea mai bună pentru a te asigura și îți continui deplasarea numai dacă pe drumul transversal nu circulă alt vehicul;
- C** reduci viteza și pătrunzi în intersecție dacă nu circulă alt vehicul din partea dreaptă.



A  
B  
C

**9** Cum procedezi în această situație ?

- A** oprești și aștepti următorul semnal al polițistului;
- B** reduci viteza și continui deplasarea;
- C** circuli obligatoriu pe direcția indicată de brațul polițistului.



A  
B  
C

**10** În această situație, vrei să virezi pe prima stradă la dreapta. Ce obligații ai ?

- A** oprești, te asiguri, apoi execuți schimbarea direcției de mers spre dreapta;
- B** semnalizezi intenția de a executa manevra, te asiguri, te angajezi cât mai aproape de marginea din dreapta, apoi virezi la dreapta;
- C** ocolești sensul giratoriu, apoi schimbi direcția de mers spre dreapta.



A  
B  
C

**11** Execuți corect depășirea autoturismului roșu ?

- A** da, deoarece ai semnalizat intenția de a depăși;
- B** da, dacă din sens invers nu circulă niciun vehicul;
- C** nu, deoarece linia continuă îți interzice manevra.



A  
B  
C

**12** Indicatorul semnaleză o viteză:

- A** minimă obligatorie;
- B** maximă;
- C** informativă.



A  
B  
C

**13****În situația prezentată îți este interzis:**

- A** să depășești alte vehicule, cu excepția bicicletelor sau a căruțelor;
- B** să oprești sau să staționezi;
- C** să calci marcajul aplicat pe carosabil.



- A**
- B**
- C**

**14****Cum procedezi la întâlnirea indicatorului ?**

- A** ocolești centrul intersecției prin stânga;
- B** întorci autovehiculul;
- C** acorzi prioritate vehiculelor care circulă în interiorul intersecției.



- A**
- B**
- C**

**15****Ce semnifică indicatorul ?**

- A** indică o succesiune de curbe, dintre care prima la dreapta;
- B** interzice virajul la dreapta;
- C** semnalizează o curbă deosebit de periculoasă.



- A**
- B**
- C**

**16****Ce semnifică indicatorul din imagine ?**

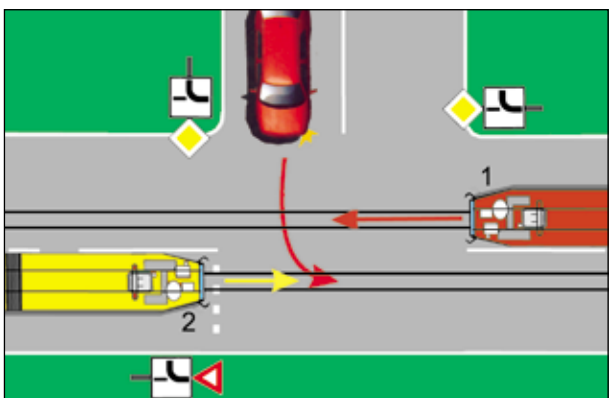
- A** limitare de viteză la categoria de autovehicule înscrisă în indicator;
- B** drum aglomerat;
- C** coloană oficială.



- A**
- B**
- C**

**17****Care dintre vehicule va trece primul prin intersecție ?**

- A** tramvaiul 1;
- B** tramvaiul 2;
- C** autoturismul.



- A**
- B**
- C**

**18****Staționarea este interzisă în următoarele situații:**

- A** pe partea carosabilă a drumurilor naționale;
- B** în dreptul căilor de acces care deserveșc proprietățile alăturate drumurilor;
- C** pe sectoarele de drum unde depășirea este interzisă.

- A**
- B**
- C**

<p><b>19</b> În ce situații este interzisă oprirea ?</p> <p><b>A</b> la o distanță de 5 m în spatele ultimului vagon de tramvai oprit într-o stație fără refugiu pentru pietoni;</p> <p><b>B</b> la o distanță mai mică de 25 m înainte și după indicatorul de stație pentru mijloacele de transport public de persoane;</p> <p><b>C</b> la o distanță mai mică de 25 m de colțul intersecției.</p>	<p><b>A</b></p> <p><b>B</b></p> <p><b>C</b></p>
<p><b>20</b> Cum trebuie să procedezi atunci când, la apropierea de o trecere la nivel cu calea ferată fără bariere, luminile roșii din dreptul indicatorului de atenție în cruce se aprind și se sting alternativ ?</p> <p><b>A</b> reduci viteza și oprești numai în cazul apropierii trenului;</p> <p><b>B</b> reduci viteza și, după ce te asiguri, îți continui deplasarea;</p> <p><b>C</b> oprești vehiculul fără a depăși indicatorul.</p>	<p><b>A</b></p> <p><b>B</b></p> <p><b>C</b></p>
<p><b>21</b> Permisul de conducere se reține:</p> <p><b>A</b> în cazul reparării autovehiculului fără autorizația poliției;</p> <p><b>B</b> în cazul încălcării obligațiilor privind semnificația luminilor roșii la trecerea la nivel cu calea ferată prevăzută cu bariere;</p> <p><b>C</b> atunci când autovehiculul nu este dotat cu oglinzi retrovizoare.</p>	<p><b>A</b></p> <p><b>B</b></p> <p><b>C</b></p>
<p><b>22</b> Ce condiții trebuie să îndeplinească instalațiile de semnalizare și iluminare ale unui autovehicul ?</p> <p><b>A</b> să corespundă condițiilor tehnice impuse și să fie omologate de către autoritatea competentă;</p> <p><b>B</b> să funcționeze doar pe timp de noapte;</p> <p><b>C</b> să nu fie folosite în mediul urban.</p>	<p><b>A</b></p> <p><b>B</b></p> <p><b>C</b></p>
<p><b>23</b> Ce trebuie să ai în vedere atunci când intenționezi să treci de un autobuz oprit într-o stație ?</p> <p><b>A</b> treci cu atenție la o distanță corespunzătoare, pentru că din fața autobuzului ar putea să apară în mod neașteptat pietoni;</p> <p><b>B</b> circuli mai departe fără ezitare;</p> <p><b>C</b> aprinzi luminile intermitente de avertizare și circuli mai departe cu atenție.</p>	<p><b>A</b></p> <p><b>B</b></p> <p><b>C</b></p>
<p><b>24</b> Conducătorul auto care a accidentat un pieton aflat în traversarea neregulamentară a străzii este obligat:</p> <p><b>A</b> să rămână la locul accidentului până la sosirea organelor de anchetă, reținând datele de identificare a martorilor;</p> <p><b>B</b> să transporte victima la cea mai apropiată unitate sanitară, dacă nu este posibil transportul acesteia cu alte mijloace, și să se întoarcă imediat la locul accidentului;</p> <p><b>C</b> să se prezinte imediat la cel mai apropiat post de poliție.</p>	<p><b>A</b></p> <p><b>B</b></p> <p><b>C</b></p>
<p><b>25</b> Ce poate indica aprinderea luminii „martor“ de la bord, care semnalizează funcționarea generatorului de curent ?</p> <p><b>A</b> ruperea curelei de antrenare a pompei de apă, a ventilatorului și a alternatorului;</p> <p><b>B</b> griparea rotorului pompei de apă;</p> <p><b>C</b> scurgeri de electrolit din acumulatori.</p>	<p><b>A</b></p> <p><b>B</b></p> <p><b>C</b></p>
<p><b>26</b> Ce rol are cutia de viteze ?</p> <p><b>A</b> permite mersul înapoi, fără a inversa sensul de rotație a motorului;</p> <p><b>B</b> permite staționarea cu motorul în funcțiune;</p> <p><b>C</b> asigură transmiterea puterii la roți.</p>	<p><b>A</b></p> <p><b>B</b></p> <p><b>C</b></p>

# CHESTIONARUL NR. 2

## CATEGORIA B

Minimum 22 puncte = admis

Bifați

<p><b>1</b> În ce situații oprirea vehiculelor pe drumurile publice este interzisă ?</p> <p><input type="checkbox"/> A la mai puțin de 50 m de cel mai apropiat colț al intersecției;</p> <p><input type="checkbox"/> B pe partea carosabilă a drumurilor naționale;</p> <p><input type="checkbox"/> C la o distanță mai mică de 25 m înainte și după indicatorul stației pentru mijloacele de transport public de persoane.</p>	<p><input type="checkbox"/> A</p> <p><input type="checkbox"/> B</p> <p><input type="checkbox"/> C</p>
<p><b>2</b> Dacă, într-o intersecție semaforizată, semnalul verde se schimbă în galben, iar conducătorul unui autovehicul, fiind foarte aproape de semafor, oprește brusc și este lovit din spate de conducătorul care îl urma, care dintre cei doi conducători este cel care greșește ?</p> <p><input type="checkbox"/> A conducătorul autovehiculului din spate, care nu a păstrat distanța de siguranță în mers;</p> <p><input type="checkbox"/> B conducătorul primului autovehicul, care a oprit brusc;</p> <p><input type="checkbox"/> C ambii conducători.</p>	<p><input type="checkbox"/> A</p> <p><input type="checkbox"/> B</p> <p><input type="checkbox"/> C</p>
<p><b>3</b> Cum trebuie să procedezi atunci când un autobuz școlar oprește cu luminile de avarie aprinse ?</p> <p><input type="checkbox"/> A circuli cu atenție sporită;</p> <p><input type="checkbox"/> B luminile intermitente de avertizare ale autobuzelor școlare te obligă să oprești;</p> <p><input type="checkbox"/> C nu ai nicio obligație.</p>	<p><input type="checkbox"/> A</p> <p><input type="checkbox"/> B</p> <p><input type="checkbox"/> C</p>
<p><b>4</b> Când nu este permis unui autovehicul să circule ?</p> <p><input type="checkbox"/> A când poluează fonic, în timpul mersului sau staționării, peste pragul admis de lege;</p> <p><input type="checkbox"/> B când nu este dotat cu roată de rezervă;</p> <p><input type="checkbox"/> C când plăcuțele cu numărul de înmatriculare sunt deteriorate.</p>	<p><input type="checkbox"/> A</p> <p><input type="checkbox"/> B</p> <p><input type="checkbox"/> C</p>
<p><b>5</b> Polițistul rutier se află în intersecție cu fața către conducătorul autovehiculului și îi adresează acestuia un alt semnal decât poziția sa, care înseamnă „Oprire“. Cum trebuie să procedeze acesta ?</p> <p><input type="checkbox"/> A să respecte semnalul polițistului;</p> <p><input type="checkbox"/> B să își continue mersul, deoarece semnele polițistului sunt contradictorii;</p> <p><input type="checkbox"/> C să oprească și să aștepte semnalul pentru continuarea deplasării.</p>	<p><input type="checkbox"/> A</p> <p><input type="checkbox"/> B</p> <p><input type="checkbox"/> C</p>
<p><b>6</b> În care dintre următoarele situații îți este interzis să efectuezi depășirea ?</p> <p><input type="checkbox"/> A la mai puțin de 150 m de trecerile la nivel cu calea ferată;</p> <p><input type="checkbox"/> B pe drumurile cu o singură bandă de circulație pe sens;</p> <p><input type="checkbox"/> C în zona de acțiune a indicatorului „Depășirea interzisă“.</p>	<p><input type="checkbox"/> A</p> <p><input type="checkbox"/> B</p> <p><input type="checkbox"/> C</p>
<p><b>7</b> Care este limita maximă de viteză în afara localităților pe drumurile naționale europene (E) ?</p> <p><input type="checkbox"/> A 110 km/h;</p> <p><input type="checkbox"/> B 100 km/h;</p> <p><input type="checkbox"/> C 90 km/h.</p>	<p><input type="checkbox"/> A</p> <p><input type="checkbox"/> B</p> <p><input type="checkbox"/> C</p>

**8** În prima intersecție vei acorda prioritate:

- A de stânga;
- B de dreapta, dacă nu există alte reglementări în intersecție;
- C autovehiculelor care circulă atât din dreapta, cât și din stânga.



A

B

C

**9** Ce semnifică semnalul roșu al semaforului, care funcționează concomitent cu cel galben ?

- A semaforul este în regim de avarie;
- B trecerea unei coloane de vehicule;
- C oprire.



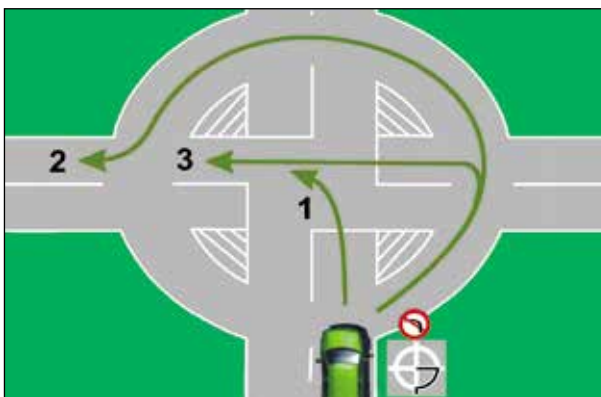
A

B

C

**10** Ce traseu trebuie să urmezi pentru a vira la stânga în intersecție ?

- A traseul 1;
- B traseul 2;
- C traseul 3.



A

B

C

**11** Poți depăși în situația dată ?

- A da, dacă te asiguri că manevra poate fi executată și semnalizezi corespunzător;
- B nu, deoarece în curbă vizibilitatea este redusă;
- C nu, deoarece prin această manevră se trece peste axul drumului.



A

B

C

**12** Distanța de frânare a autovehiculului depinde cel mai mult de:

- A viteză;
- B profilul pneurilor;
- C eficiența sistemului de direcție.



A

B

C

**13****Ce semnifică indicatorul ?**

- A** „Circulație interzisă în ambele sensuri“;
- B** „Prioritate față de circulația din sens invers“;
- C** „Circulație în ambele sensuri“.



**A**  
**B**  
**C**

**14****Indicatorul interzice:**

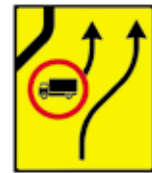
- A** circulația în ambele sensuri;
- B** deplasarea pe direcția înainte;
- C** schimbarea direcției de mers în prima intersecție.



**A**  
**B**  
**C**

**15****Care dintre indicatoarele alăturate te obligă să execuți virajul la stânga ?**

- A** indicatorul 2;
- B** indicatorul 1;
- C** niciunul.



**A**  
**B**  
**C**

**16****La întâlnirea cărui indicator ai obligația de a acorda prioritate pietonilor ?**

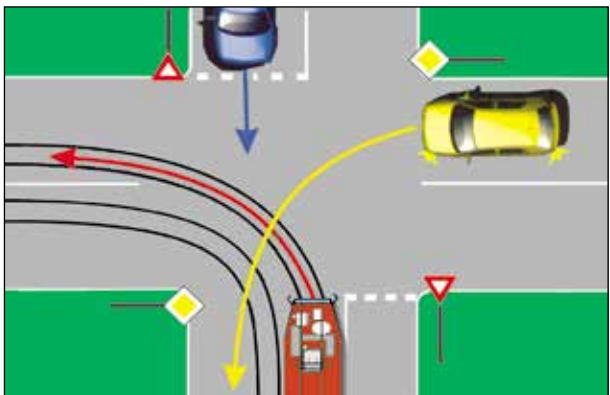
- A** indicatorul cu contur roșu;
- B** indicatorul pe fond albastru;
- C** ambele indicatoare.



**A**  
**B**  
**C**

**17****Care comportament este corect, dacă te afli la volanul autoturismului galben ?**

- A** circulând spre stânga, vei traversa ultimul intersecție;
- B** vei permite trecerea tramvaiului;
- C** vei traversa primul intersecție.



**A**  
**B**  
**C**

**18****În zona de acțiune a indicatorului sunt interzise următoarele manevre:**

- A** depășirea;
- B** mersul înapoi;
- C** oprirea.



**A**  
**B**  
**C**

**19****Unde este interzisă întoarcerea ?**

- A pe drumurile naționale;
- B pe poduri și sub poduri;
- C la mai puțin de 50 m de intrarea în sediile instituțiilor.

A

B

C

**20****Cum trebuie să procedezi atunci când circuli pe un drum public și întâlnești indicatorul „Prioritate față de circulația din sens invers“ ?**

- A oprești și acorzi prioritate numai vehiculelor cu gabarit depășit, care se apropie din sens opus;
- B oprești și acorzi prioritate de trecere vehiculelor care se apropie din sens opus;
- C îți continui deplasarea, deoarece ai prioritate de trecere.

A

B

C

**21****În care dintre următoarele situații, pe lângă amenda contravențională, se reține și permisul de conducere ?**

- A la nerespectarea semnalelor polițiștilor la trecerea coloanelor oficiale;
- B pentru neoprirea la semnalul persoanelor autorizate din zona de lucrări la drumul public;
- C pentru neoprirea la semnalul agentului de cale ferată.

A

B

C

**22****Ce trebuie să verifici la un autoturism cu rulotă, înainte de a porni la drum ?**

- A dacă vizibilitatea în spate, prin oglinzile retrovizoare, este asigurată;
- B dacă sistemul de alimentare cu apă al rulotei funcționează;
- C dacă persoanele transportate în rulotă poartă centura de siguranță.

A

B

C

**23****Ce se poate întâmpla dacă, circulând printr-o curbă, frânezi dintr-odată puternic ?**

- A autoturismul derapează;
- B autoturismul se înclină spre interiorul curbei;
- C autoturismul își menține direcția.

A

B

C

**24****Cum se face imobilizarea unui braț fracturat ?**

- A cuprinzând atât osul fracturat, cât și cele două articulații, superioară și inferioară;
- B în dreptul osului fracturat;
- C cuprinzând osul fracturat și articulația superioară.

A

B

C

**25****Factorii care fac ca motorul Diesel al unui autoturism să emită fum excesiv sunt:**

- A defecțiunile la instalația de injecție;
- B lipsa combustibilului;
- C bușonul rezervorului închis la maximum.

A

B

C

**26****Depășirea este interzisă:**

- A în curbele în care vizibilitatea este redusă sub 50 m;
- B în intersecțiile dirijate;
- C în stații fără refugiu pentru pietoni, când tramvaiul este oprit.

A

B

C



# CHESTIONARUL NR. 3

## CATEGORIA B

Minimum 22 puncte = admis

Bifați

<p><b>1</b> Este permisă staționarea în dreptul căilor de acces care deserveșc proprietățile alăturate drumurilor publice ?</p> <p><b>A</b> da, dar numai a autovehiculelor având o masă totală maximă autorizată de până la 1,5 t;</p> <p><b>B</b> legal, nu este prevăzut;</p> <p><b>C</b> nu, deoarece staționarea în astfel de locuri este interzisă.</p>	<p><b>A</b></p> <p><b>B</b></p> <p><b>C</b></p>
<p><b>2</b> Ce obligații îți revin dacă ai accidentat un pieton care a traversat strada printr-un loc nepermis ?</p> <p><b>A</b> întrucât nu ești vinovat de accident, poți părăsi locul faptei;</p> <p><b>B</b> să anunți poliția și, în lipsa altor mijloace de transport, să îl transporti tu însuși la cea mai apropiată unitate sanitară, apoi să te întorci la locul accidentului;</p> <p><b>C</b> să te prezinți de urgență la cea mai apropiată unitate de poliție.</p>	<p><b>A</b></p> <p><b>B</b></p> <p><b>C</b></p>
<p><b>3</b> Dacă te deplasezi cu autovehiculul pe o arteră rutieră dintr-o localitate, ce trebuie să ai în vedere la apropierea de o intersecție ?</p> <p><b>A</b> să claxonezi;</p> <p><b>B</b> să circuli cu prudență, ca să poți acorda prioritate;</p> <p><b>C</b> nu ai nicio obligație.</p>	<p><b>A</b></p> <p><b>B</b></p> <p><b>C</b></p>
<p><b>4</b> În care dintre următoarele situații ești obligat să circuli cu o viteză care să nu depășească 30 km/h în localități ?</p> <p><b>A</b> atunci când vizibilitatea este sub 100 m, în condiții de ceață;</p> <p><b>B</b> în zona de acțiune a indicatorului de avertizare „Accident“;</p> <p><b>C</b> la intersecția cu vehiculele care circulă din sens opus.</p>	<p><b>A</b></p> <p><b>B</b></p> <p><b>C</b></p>
<p><b>5</b> Ce obligații îți revin dacă, într-o intersecție, virezi la stânga pe semnalul verde al semaforului ?</p> <p><b>A</b> acorzi prioritate de trecere mijloacelor de transport public de persoane;</p> <p><b>B</b> acorzi prioritate de trecere atât vehiculelor care circulă din sens opus, cât și pietonilor aflați în traversare pe sensul tău de mers;</p> <p><b>C</b> nicio obligație.</p>	<p><b>A</b></p> <p><b>B</b></p> <p><b>C</b></p>
<p><b>6</b> Prin distanța de cel puțin 50 m de la care conducătorul de autovehicul este obligat să semnalizeze intenția de a depăși în localitate se înțelege:</p> <p><b>A</b> distanța dintre locul în care s-a semnalizat intenția de a depăși și locul în care se schimbă poziția de mers a autovehiculelor pentru începerea depășirii;</p> <p><b>B</b> distanța dintre autovehiculul care depășește și cel care urmează să fie depășit;</p> <p><b>C</b> distanța dintre autovehiculul angajat în depășire și locul unde efectuează depășirea.</p>	<p><b>A</b></p> <p><b>B</b></p> <p><b>C</b></p>
<p><b>7</b> În ce situații viteza de deplasare nu trebuie să depășească 30 km/h în localități sau 50 km/h în afara localităților ?</p> <p><b>A</b> atunci când circuli în aceeași direcție cu autobuzele oprite în stație, pe drumurile cu o singură bandă pe sens;</p> <p><b>B</b> când vizibilitatea este sub 100 m în condiții de ceață, ploi torențiale, ninsori abundente;</p> <p><b>C</b> la întâlnirea indicatorului „Prioritate față de circulația din sens invers“.</p>	<p><b>A</b></p> <p><b>B</b></p> <p><b>C</b></p>